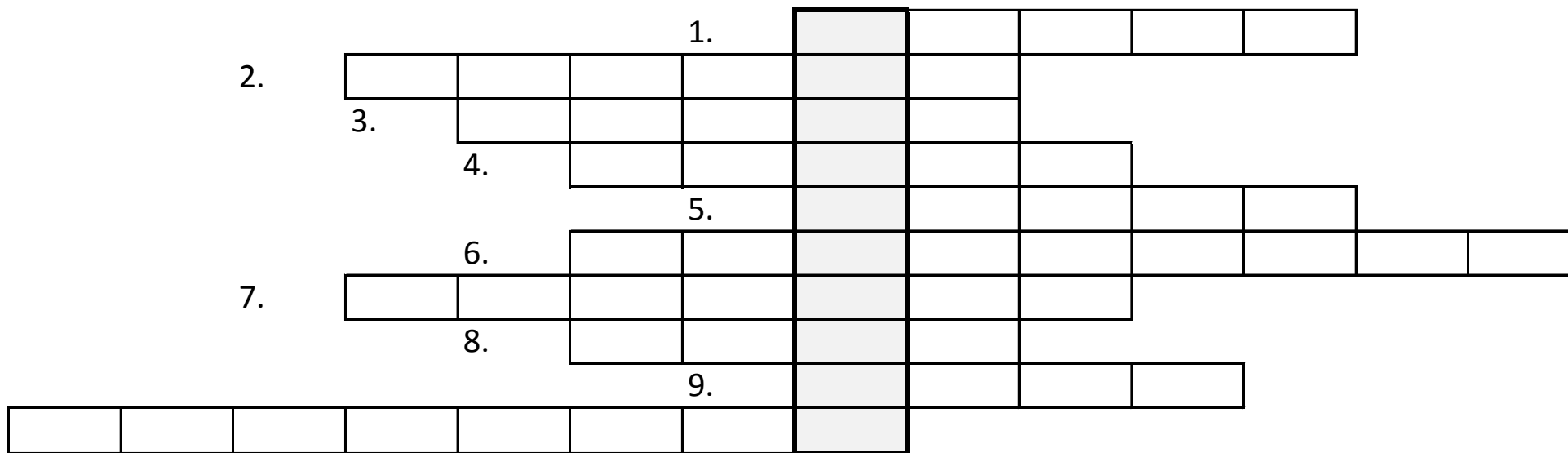
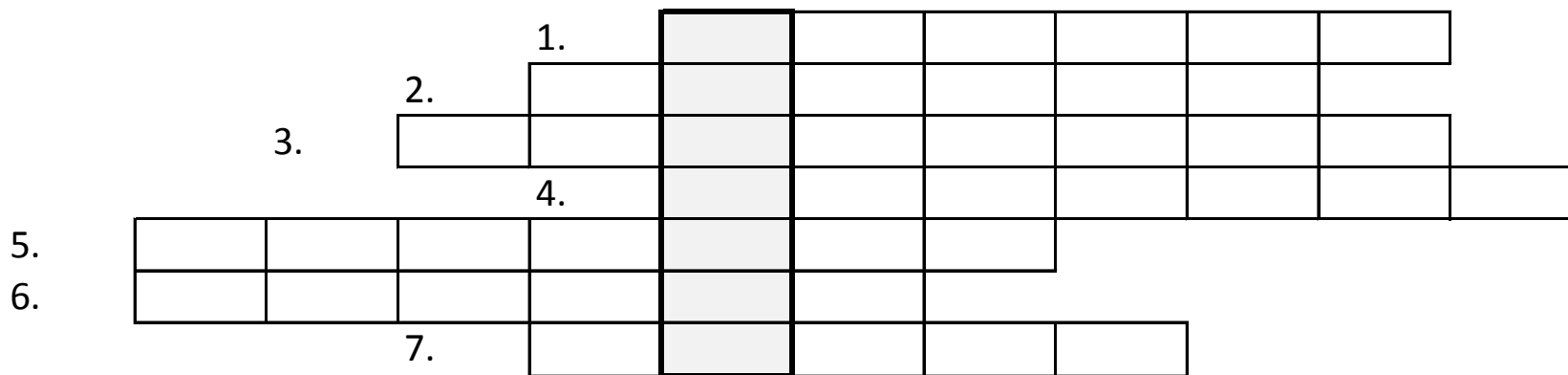


A.



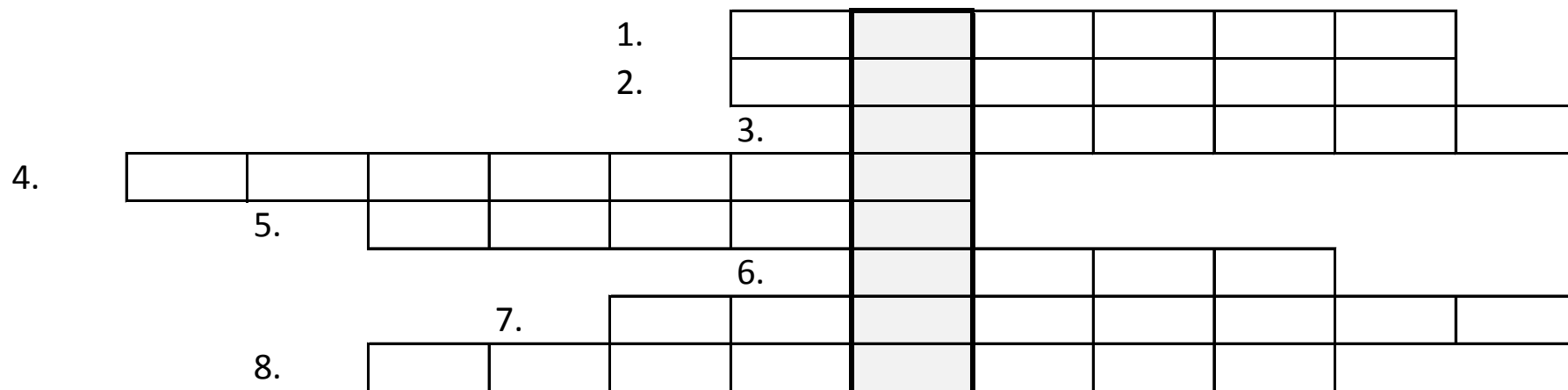
1. Město ve Středočeském kraji, které má v názvu Hora
2. Vodní hrad v Plzeňském kraji
3. Přehradní nádrž v Jihočeském kraji
4. V Mostecké panvi se těží uhlí (barva)
5. Krajské město Středočeského kraje
6. Hrad, který nechal vybudovat Karel IV. (Středočeský kraj)
7. Jedna z řek, které se spojují v Berounku
8. Město v Ústeckém kraji, bývalé centrum těžby hnědého uhlí
9. Zámek v Královéhradeckém kraji
10. Pohoří v Libereckém kraji



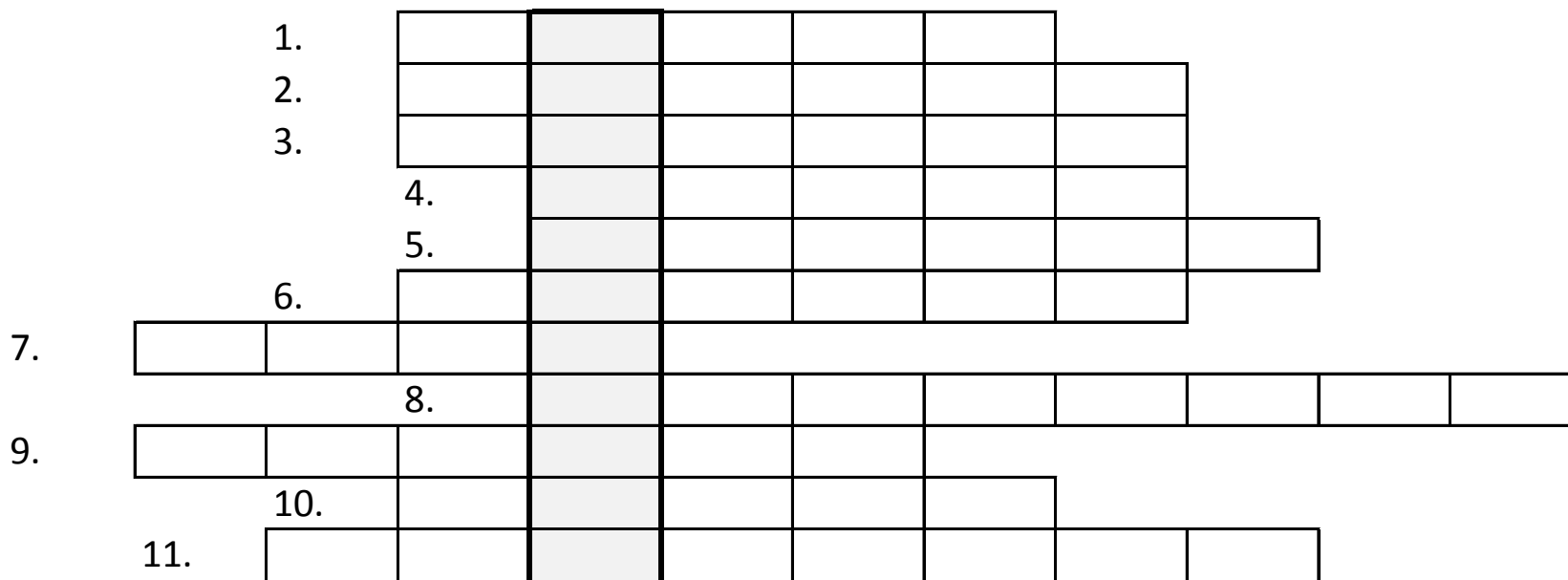
Častým cílem turistů ve Středočeském kraji jsou(1.část tajenky)
(2.část tajenky), které se nacházejí v Českém krasu.

1. Pravý přítok řeky Labe
2. Město ve Středočeském kraji. V blízkosti tohoto města jsou cementárny.
3. Pohoří v Moravskoslezském kraji
4. Pohoří ve Zlínském kraji (Bílé)
5. Pohoří, které zasahuje do Zlínského i Moravskoslezského kraje (Moravskoslezské)
6. Město v Jihočeském kraji, kde se nachází zámek
7. Město v Ústeckém kraji, je říčním přístavem

B.



1. Řeka, která protéká Prahou
2. Pravý přítok Vltavy
3. Město v Jihomoravském kraji v blízkosti řeky Dyje
4. Řeka v Jihočeském kraji, pravý přítok Vltavy
5. Krajské město Plzeňského kraje
6. Název rybníka v Jihočeském kraji
7. Pohoří, ve kterém nalezneme nejvyšší horu České republiky
8. Pohoří v Plzeňském kraji (dvě slova)

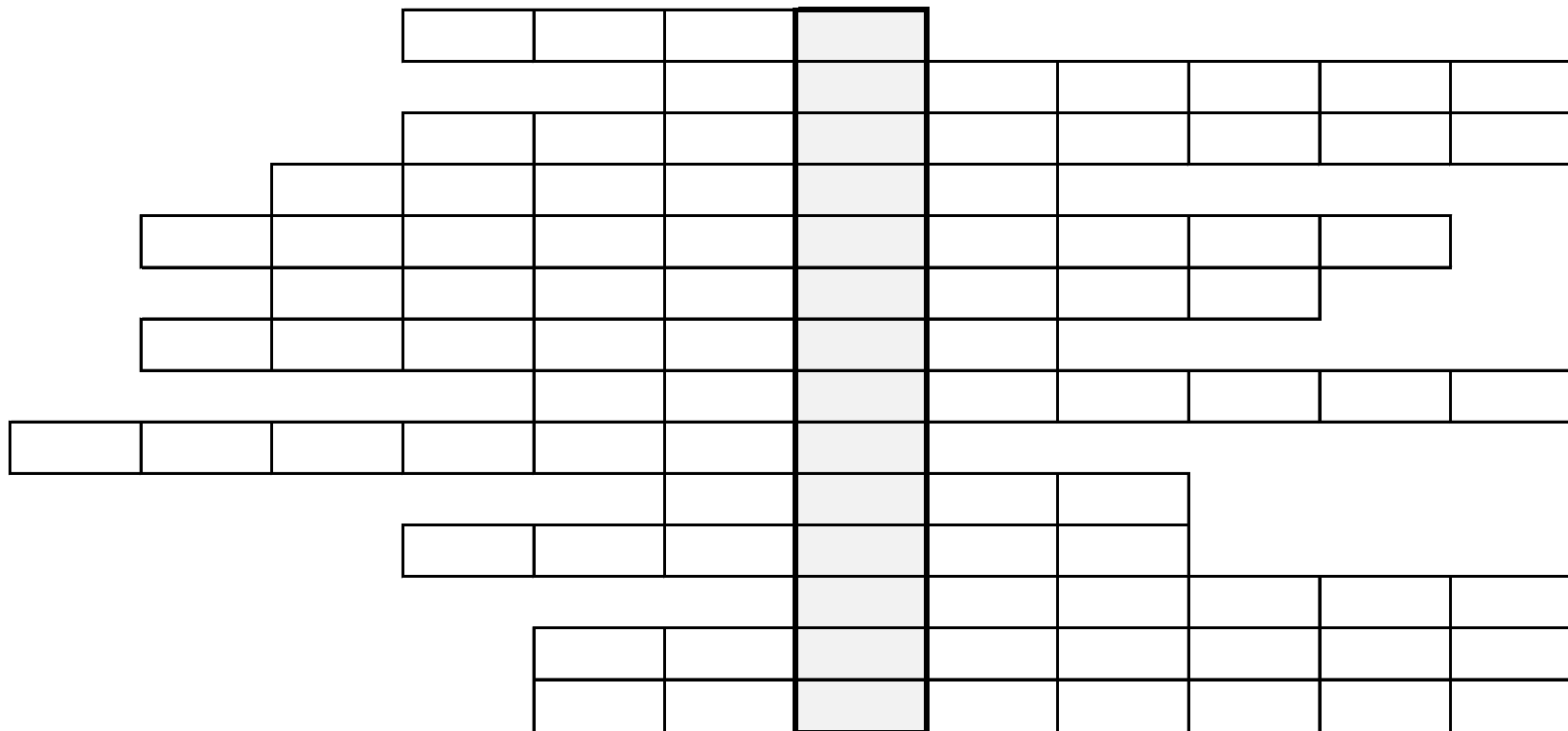


Města Karlvov Vary, Mariánké Lázně a Františkovy Lázně tvoří tzv. (dvě slova)

.....

- | | |
|---|---|
| 1. Řeka protékající Strakonice | 9. Město, kde se stéká Labe s Vltavou |
| 2. Řeka v Královéhradeckém kraji | 10. Jihočeské město na řece Otavě |
| 3. Řeka, která pramení pod Kralickým Sněžníkem | 11. Jaderná elektrárna v Kraji Vysočina |
| 4. Historické město v Královéhradeckém kraji | |
| 5. Řeka v Plzeňském kraji, na které leží zámek Kozel | |
| 6. Řeka v Plzeňském kraji, na které leží hrad Švihov | |
| 7. Řeka pramenící v Krkonoších pod Sněžkou | |
| 8. Město v Pardubickém kraji, kde se nachází zámek zapsaný v UNESCO | |

C.

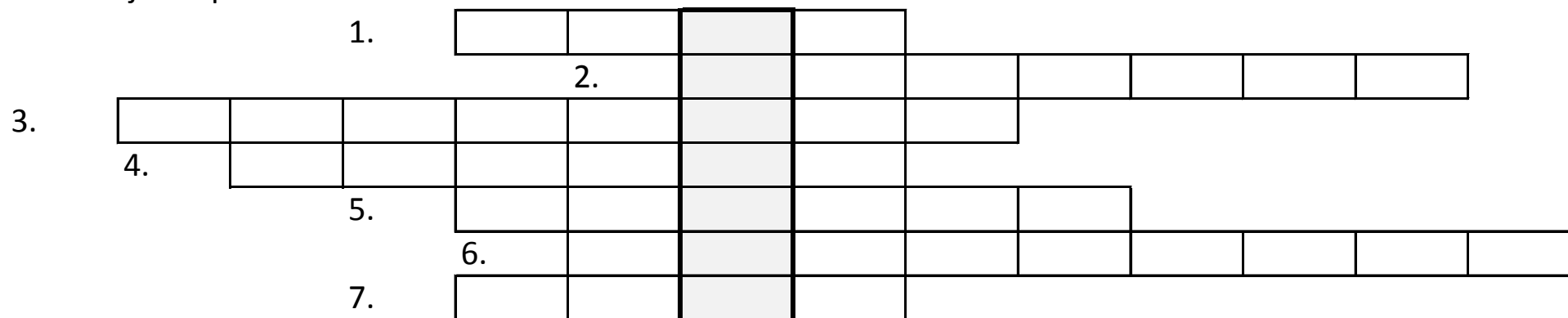


.....je národní park v Ústeckém kraji.

C.

1. Zámek v Kraji Vysočina
2. Lázeňské město v Ústeckém kraji
3. Město v Olomouckém kraji, kde se nachází oděvní průmysl
4. Nejvyšší hora České republiky
5. Město, ve kterém se vyrábějí autobusy(dvě slova)
6. Největší národopisná oblast ve Zlínském kraji
7. Krajské město Moravskoslezského kraje
8. Zámek a hrad v Libereckém kraji
9. Krajské město Libereckého kraje
10. Název kraje v okolí Olomouce a zároveň národopisná oblast
11. Město v Olomouckém kraji, kde je strojírenský průmysl
12. Řeka v Plzeňském kraji, levý přítok Berounky
13. Zřícenina hradu v Moravskoslezském kraji
14. Krajské město Olomouckého kraje

D. Pracuj s mapkou v učebnici na str. 42



Muzeum v přírodě nazýváme

1. Hrad v Českém ráji
2. Hrad v blízkosti řeky Labe
3. Zámek v Jizerských horách
4. Zámek v blízkosti Orlických hor
5. Hrad v blízkosti hradu Kokřín
6. Hrad v blízkosti Žďárských vrchů
7. Zámek v blízkosti Prahy

V přesmyčkách hledej krajská města (použij všechna písmena).

VAKARRYVYLO

EŇZPL

TÍBEMNADÚSLA

JOČESCEBUKÉDĚVI

HRAVÉKRÁDECLO